

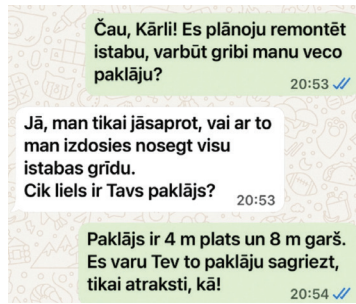







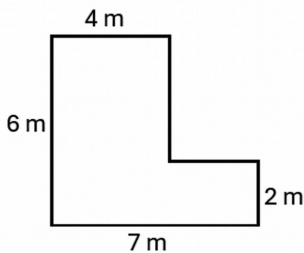
**10. uzdevums.** (5 punkti)

Kārlis no brāļa saņēma ziņu (sk. attēlu).



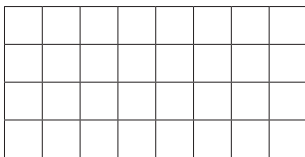
10.1. Aprēķini, vai, sagriežot brāļa paklāju gabalos, Kārlis ar to varēs nosegt visu savas istabas grīdu!

Kārļa istabas grīda




Ar brāļa paklāju Kārlis \_\_\_\_\_ nosegt visu savas istabas grīdu.

10.2. Parādi zīmējumā, kā Kārlis varētu palūgt sagriezt paklāju, lai būtu iespējami maz griezuma līniju!



*Pamēģini šeit!*



**Atbilde**

**11. uzdevums.** (3 punkti)

Emīlijas telefona lietotne saglabā datus par to, cik ilgu laiku viņa katru nedēļas dienu skatās tīmekļa vietni *YouTube*. Skolas medmāsa teica, ka Emīlija vidēji dienā drīkst skatīties *YouTube* ne vairāk kā 40 minūtes. Emīlija apgalvo, ka viņa ir izpildījusi skolas medmāsas noteikumu. Izmantojot informāciju tabulā, pamato, vai Emīlijai ir taisnība!

Dienu skaits	Laiks (min)
2	40
2	30
1	50
2	45

